


APOSTILA DE ATIVIDADES SOBRE A DIVISÃO SUL-AMERICANA - BAIXE GRÁTIS

Esta apostila foi elaborada com muito carinho, pensando em oferecer atividades educativas e interessantes para os alunos dos Primários e Juvenis. Aqui você vai encontrar atividades para todas as reuniões do trimestre. Utilize uma folha para cada aluno, por reunião.

Neste trimestre, estaremos estudando sobre a **Divisão Sul-Americana**.

A Divisão Sul-Americana abrange 349 milhões de pessoas! Dessas, apenas pouco mais de dois milhões são adventistas. Existem apenas 14 mil igrejas para abrigar todos esses membros.

Parte das ofertas que forem arrecadadas no décimo terceiro sábado, no mundo todo, serão enviadas para essa Divisão, a fim de construir igrejas no Brasil e na Bolívia.



Situe-se

Quantos continentes existem no mundo? **Escreva** o nome deles, **desembaralhando** as letras abaixo. Depois **coloque** os nomes dos continentes na figura abaixo.

O U R E A P = _____

F A R C I A = _____

C A M E I R A = _____

C O A N A I E = _____

S A I A = _____



O Brasil está situado em qual continente? _____

Neste trimestre, as ofertas missionárias beneficiarão especialmente a **Bolívia e o Brasil**.

Pinte toda a América do Sul.



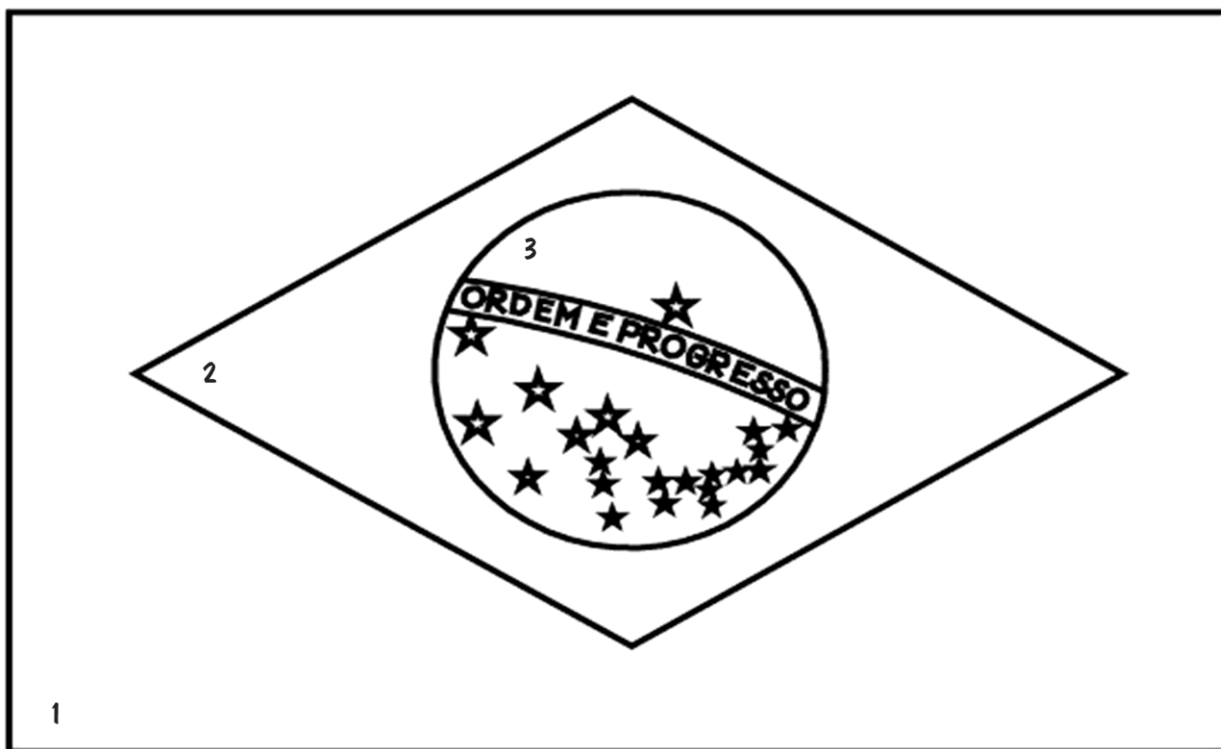
No caça-palavras abaixo, **encontre** o nome JESUS e **ache** também o nome dos 13 países que fazem parte da América do Sul.

E P E R U H
 B R A S I L
 S L A T R I
 A D V E N U
 E N G O I E V E N E Z U E L A B
 G U I A N A F R A N C E S A N O
 R U N A T J E S U S S S N R T V
 A R G E N T I N A S T R I N A I
 B O L I V I A C P A R A G U A I
 S E O L T G
 U Q L U A U
 R U O R C I
 I A M U H A
 N D B G I N
 A O I U L A
 M R A A E R
 E T T I E C
 O R A T O I

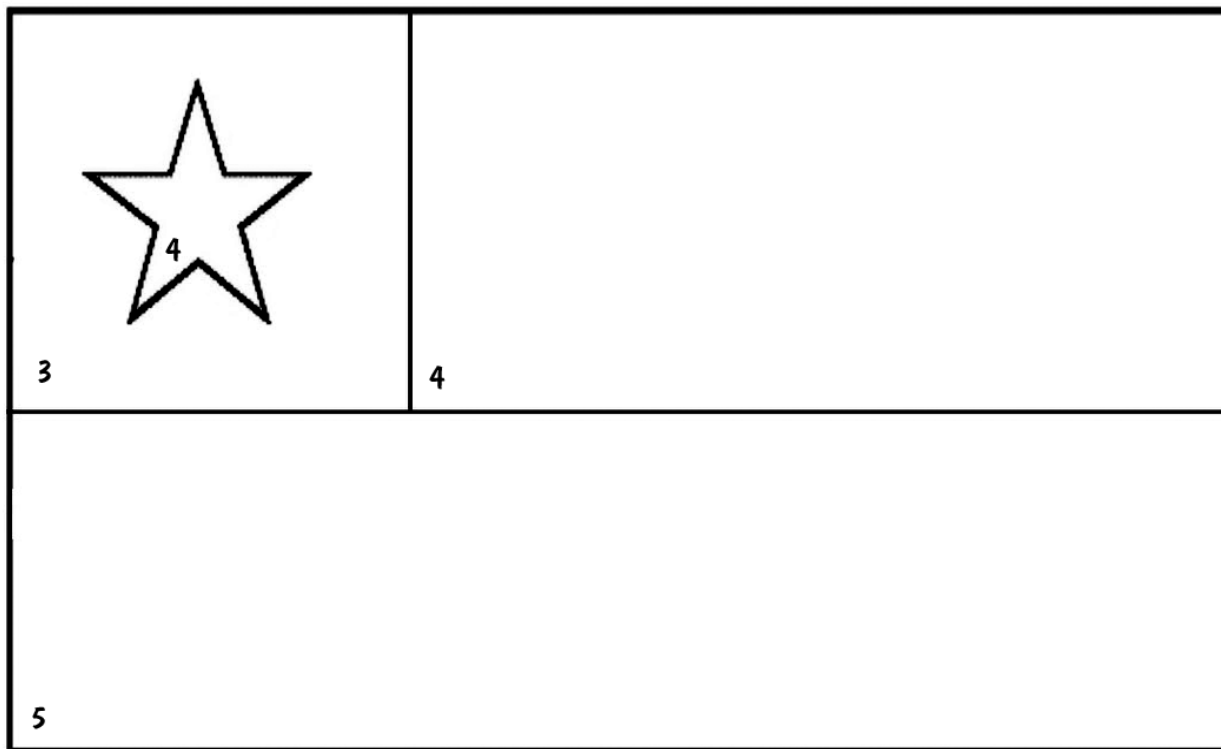
- Argentina
- Bolivia
- Brasil
- Chile
- Colombia
- Equador
- Guiana Francesa
- Guiana
- Jesus**
- Paraguai
- Peru
- Suriname
- Uruguai
- Venezuela

Pinte as bandeiras do Brasil e do Chile de acordo com a legenda.

B R A S I L



C H I L E



1 = verde / 2 = amarelo / 3 = azul / 4 = branco / 5 = vermelho

Desembaralhe o nome dos países da América do Sul que fazem parte da Divisão Sul-Americana.

Ligue o nome do país ao seu lugar no mapa.

Pinte cada país de uma cor diferente.

SAIRLB

RUIGAAAP

AIGUUUR

ANITNEGRA

LIECH

PURE

ADOQRUE

VOALBII




A Floresta Amazônica tem 7 milhões de quilômetros quadrados. E está espalhada em 9 países. A maior parte fica no Brasil.

Nessa floresta, existem muitos animais.


Conheça alguns animais e suas características. **Ligue** o nome com a figura correspondente. **Pinte** as figuras.



MANATÍ Também conhecido como peixe-boi. Chega a ter 4,5 m de comprimento e pesar 750 kg. Alimenta-se de plantas aquáticas.




CROCODILO. Possui mais de 80 dentes. Normalmente, caça dentro da água. Alimenta-se de peixes, aves, moluscos e pequenos mamíferos.



BICHO-PREGUIÇA. Move-se bem lentamente, mas consegue subir em árvores facilmente. Come folhas e frutos.



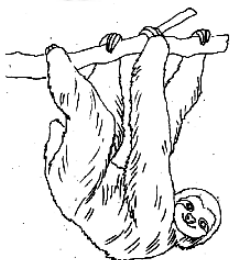
BOTO-COR-DEO-ROSA é um golfinho de água doce. Pode chegar a medir 2,5 m de comprimento e pesar 160 kg.



ANACONDA. É a maior cobra do mundo. Chega a medir 19 metros de comprimento.



CAPIVARA. É o maior roedor do mundo. Vive perto da água. Consegue ficar submersa por alguns minutos.



PIRANHA. Peixe carnívoro encontrado no Rio Amazonas. É mais perigosa que um tubarão. A força da mordida da piranha é como a força da mordida de um buldogue.

Aprenda a dizer umas palavras em espanhol:

Obrigado = Muchas Gracias (pronuncia-se **mútxas grácias**)

Tchau = Adiós

Mãe = Madre / **Pai** = Padre

Eu te amo = Te amo (pronuncia-se **te ámo**).



Descubra algumas curiosidades sobre o Rio Amazonas

Preencha os espaços abaixo sabendo que

1 = A / 2 = B / K = 11 / ... / 26 = Z.

O Amazonas, é o rio que possui a $\frac{13}{1} \frac{1}{9} \frac{15}{18}$

de $\frac{22}{1} \frac{26}{1} \frac{15}{1}$ do mundo. Sua nascente é no $\frac{16}{5} \frac{18}{21}$ e

ele deságua no $\frac{15}{3} \frac{5}{1} \frac{14}{15} \frac{1}{20} \frac{12}{14} \frac{20}{9} \frac{3}{15}$, no Delta do

Amazonas, na $\frac{9}{12} \frac{8}{1}$ de $\frac{13}{1} \frac{18}{1} \frac{10}{15}$, em $\frac{2}{5} \frac{12}{5} \frac{13}{13}$ do

$\frac{16}{1} \frac{18}{1}$. É ali que o $\frac{18}{9} \frac{15}{15}$ encontra o $\frac{13}{1} \frac{18}{18}$.

Quando as $\frac{1}{7} \frac{21}{1} \frac{19}{19}$ do $\frac{18}{9} \frac{15}{15} \frac{1}{13} \frac{1}{26} \frac{15}{14} \frac{1}{19}$ se encontram

com as águas do Oceano Atlântico, acontece um $\frac{2}{1} \frac{18}{21} \frac{12}{8} \frac{15}{15}$ muito

$\frac{6}{15} \frac{18}{20} \frac{5}{5}$. A $\frac{6}{15} \frac{18}{18} \frac{1}{1}$ do $\frac{6}{5} \frac{14}{15} \frac{13}{5} \frac{14}{15}$ derruba

$\frac{1}{18} \frac{22}{15} \frac{18}{5} \frac{19}{19}$ e altera as $\frac{13}{1} \frac{18}{7} \frac{5}{14} \frac{19}{19}$ do rio. Durante este



fenômeno, formam-se $\frac{15}{14} \frac{4}{1} \frac{19}{19}$ que podem atingir até $\frac{20}{18} \frac{5}{9}$

de $\frac{13}{5} \frac{20}{19} \frac{15}{19}$ e $\frac{1}{12} \frac{20}{21} \frac{18}{1}$ e $\frac{22}{9} \frac{19}{20} \frac{5}{5}$ km por

$\frac{8}{15} \frac{18}{1}$. Em tempos de $\frac{3}{8} \frac{5}{9} \frac{1}{1}$, a distância de uma

$\frac{13}{1} \frac{18}{7} \frac{5}{13}$ à outra pode chegar a 50 Km e 50 m de profundidade.

A Amazônia é um lugar exuberante, cheio de vida, plantas, animais.
Na imagem da Amazônia, abaixo, **descubra** as sete diferenças entre as duas figuras e depois **pinte** as figuras.



Cante em espanhol o hino Deus é tão bom.

Deus é tão bom,
Deus é tão bom,
Deus é tão bom,
Deus é bom pra mim!



Deus me sustém,
Deus me sustém,
Deus me sustém,
Deus é bom pra mim!

Ele voltará,
Ele voltará,
Ele voltará,
Deus é bom pra mim!

Dios es tan bueno, (Diós és tân buêno)
Dios es tan bueno, (Diós és tân buêno)
Dios es tan bueno, (Diós és tân buêno)
Dios es bueno para mí, (Diós és Bueno pára mí)

Dios me sostiene, (Diós me sostiêne)
Dios me sostiene, (Diós me sostiêne)
Dios me sostiene, (Diós me sostiêne)
Dios es bueno para mí, (Diós és Bueno pára mí)


Él regresará
Él regresará
Él regresará
Dios es bueno para mí, (Diós és Bueno pára m

Aprenda a contar até dez em espanhol, a língua falada em vários países da América do Sul. Entre parênteses está a pronúncia correta

1 – uno / 2 – dos / 3 – tres / 4 – cuatro / 5 – cinco / 6 – seis
7 – siete (siête) / 8 – ocho (ôicho) / 9 – nueve (nuêve) / 10 – diez (diéz)



Preencha a cruzadinha ao lado, colocando o nome dos animais em espanhol.



Vários animais vivem na Floresta Amazônica, no Brasil.

Complete as palavras a seguir com as vogais que estão faltando, sabendo que
 1 = A / 2 = E / 3 = I / 4 = O / 5 = U

B _ CHO - PR _ G _ _ Ç _
 3 2 5 3 1

P _ R _ NH _
 3 1 1

P _ _ X _ - B _ _
 2 3 2 4 3

B _ T _ - C _ R _ D _ - R _ S _
 4 4 4 2 4 1

C _ P _ V _ R _
 1 3 1 1

_ N _ C _ ND _
 1 1 4 1

J _ C _ R _
 1 1 2

_ NÇ _ - P _ NT _ D _
 4 1 3 1 1

T _ R _ NT _ L _
 1 1 5 1

M _ C _ C _
 1 1 4

S _ Ç _ _ R _ N _
 5 5 1 1 1

C _ T _ _
 4 3 1

_ R _ R _ - C _ N _ ND _
 1 1 1 1 3 2


_ NT _
 1 1

T _ C _ N _
 5 1 4

P _ R _ R _ C _
 3 1 5 5
 5



Preencha os espaços de acordo com a legenda.



A _____ dos

_____ tem _____

quilômetros de _____.

É a _____ de _____ do

_____. A Cordilheira dos Andes se estende da _____

até a _____, atravessando todo o continente sul-

americano, passando pelo _____,

_____ e _____.

Seu ponto mais alto é o _____ do _____

que está localizado nos andes _____,

próximo à cidade de _____. Esse pico tem 6.962 m

de _____. Ele é conhecido pelo nome de _____

_____ de _____.

Com _____,

esse é um lugar que _____ a _____.



Legenda

- = h
- = t
- = o
- = d
- = a
- = i
- = e
- = u
- = r
- = n
- = l
- = m
- = g
- = c
- = h
- = b
- = v
- = f
- = s
- = p
- = z

A Lancha Luzeiro levava médicos e outros profissionais de saúde para atender pessoas que moravam na margem do Rio Amazonas.


Siga as instruções abaixo e **desenhe** a Lancha Luzeiro

- Com régua e lápis trace linhas horizontais e verticais no quadrado menor.
- Copie cada quadradinho individualmente.
- Pinte as figuras.



A casa do índio é chamada OCA. Ela é feita de madeira e coberta com folhas de palmeiras ou palha.

Ligue o índio até sua oca. **Pinte** as figuras.



Receitas do Brasil

ARROZ BRANCO

Ingredientes:

- 1 xícara de arroz branco cru
- 1 cebola picada
- 2 dentes de alho picados
- 2 xícaras de água
- Sal a gosto

Modo de Preparo:

 Lavar o arroz.

Numa panela, refogar a cebola e o alho com um pouco de óleo. Juntar o arroz, colocar sal e misturar. Colocar a água, misturar e esperar ferver. Quando o arroz e água, diminuir o fogo e tampar a panela. Quando secar toda a água, desligar o fogo.



FEIJÃO


Ingredientes:

- 2 xícaras de feijão / • 1 cebola picada
- 2 dentes de alho picados / • água / • Sal a gosto

Modo de Preparo: Lavar o feijão. Deixar de molho em água quente por meia hora antes de cozinhar. Colocar o feijão na panela de pressão. Colocar água para cobrir duas vezes o feijão. Cozinhar por meia hora na pressão. Numa outra panela, refogar a cebola e o alho com um pouco de óleo. Juntar o feijão sem o caldo, acrescentar sal, misturar e amassar o feijão com uma colher de pau. Colocar o caldo e deixar ferver um pouco.

BOLO DE CHOCOLATE

- 4 ovos
- 2 xícaras de açúcar
- 2 xícaras de farinha
- 1 xícara de óleo
- 1 xícara de leite
- 1 xícara de chocolate em pó
- 1 colher de sobremesa de fermento em pó



Modo de Fazer: Bater os ovos com o açúcar até formar um creme. Em seguida, adicionar os demais ingredientes e bater por mais uns minutos. Levar ao forno numa forma untada e polvilhada, por 45 minutos.

Cobertura: Levar ao fogo 1 colher de sopa de manteiga, meia xícara de chocolate em pó, meia xícara de açúcar e 3 colheres de sopa de leite. Mexer bem e colocar sobre o bolo já assado, espalhando com a ajuda de uma espátula (se estiver muito líquida, adicionar mais umas colheres de chocolate em pó até obter a consistência desejada).